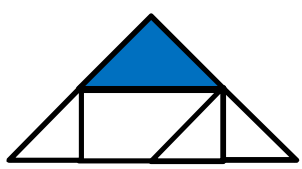








$\frac{5}{7} = \frac{\bigcirc}{49}$	$\frac{9}{15} = \frac{3}{\bigcirc}$	$\frac{\bigcirc}{10} = \bigcirc$	۷
	<p>کسر رنگی مربوط به شکل روبرو کدام است؟</p> <p>(الف) <math>\frac{1}{5}</math>      (ب) <math>\frac{2}{8}</math>      (ج) <math>\frac{1}{6}</math></p>		۸
			۹
<p>کشاورزی <math>\frac{3}{6}</math> مزرعه ی خود را گل آفتابگردان و <math>\frac{3}{18}</math> آن را گل رز کاشته است .</p> <p>(الف) چه کسری از زمین را گل کاشته است ؟</p> <p>(ب) چه کسری از زمین بدون کشت مانده است ؟</p>			۱۰
<p>مریم روزی <math>\frac{3}{20}</math> کتاب داستانش را مطالعه می کند . او پس از ۵ روز چه کسری از کتاب را مطالعه کرده است ؟</p>			۱۱

ارزشیابی معلم

۱	عده‌های نه رقمی را با رقم می نویسد و ارزش عددها را در جدول می داند	خ	خ	خ	ق	ق	ن
۲	الگوهای عددی و شکل را کشف می کند و ادامه می دهد .						
۳	می تواند کسرها و عدد ها را با هم مقایسه کند .						
۴	می تواند گسترده ی عدد پنج رقمی را بنویسد .						
۵	برای شکل ، کسرهای مساوی می نویسد .						
۶	مسئله های مربوط به جمع و تفریق کسرها را انجام می دهد .						
۷	مسئله مربوط به ضرب کسرها را حل می کند .						